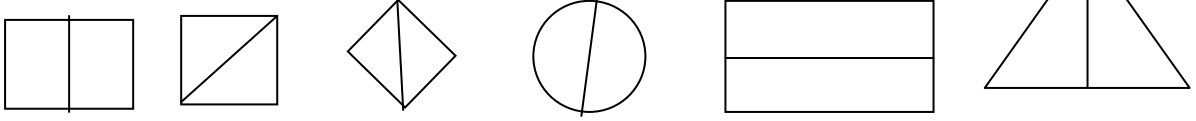
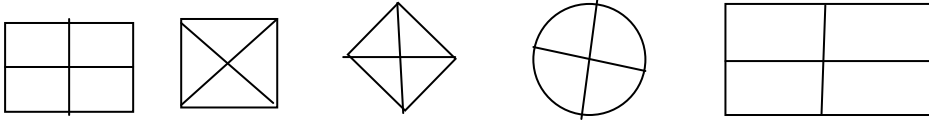


ETKİNLİK&TEST
YARIM VE BÜTÜN

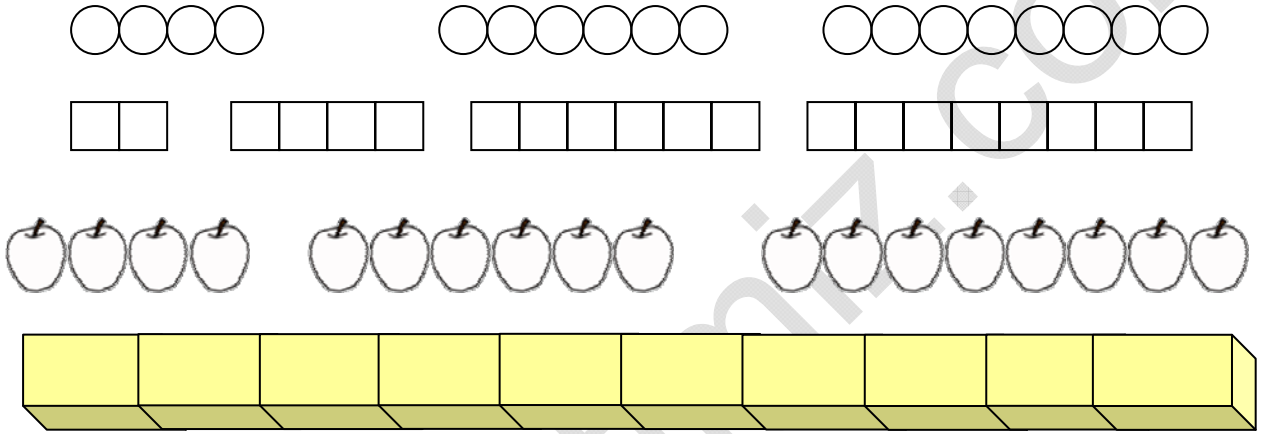
1. Aşağıdaki şekillerin yarısını boyayınız.



2. Aşağıdaki şekillerin yarısını boyayınız.



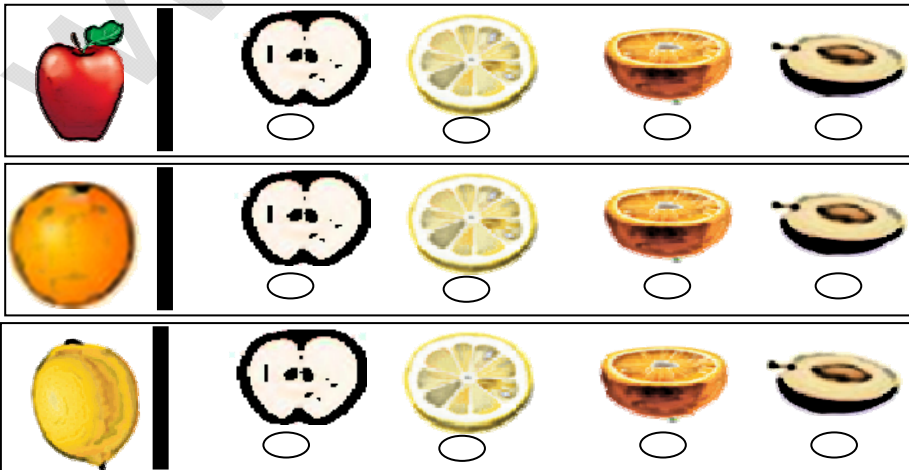
3. Aşağıdaki çoklukların yarısını boyayınız.



4. Aşağıdaki yarım olanları işaretleyiniz.



5. Baştaki nesnenin yarısını gösteren nesneyi işaretleyiniz.



ETKİNLİK&TEST
YARIM

Aşağıdaki soruların cevaplarını karşılarındaki boşluklara yazalım.

1. Bir elmada kaç tane yarım elma vardı? (.....)
2. İki yarım ekmek kaç bütün ekmek eder? (.....)
3. Bir ekmekte kaç tane yarım ekmek var? (.....)
4. Bir bütünde kaç tane yarım vardır? (.....)
5. Dört yarım kaç tane bütün yapar? (.....)
6. İki bütünde kaç tane yarım vardır? (.....)
7. 8 yarım ekmek kaç tane bütün ekmek eder? (.....)
8. Kaç tane yarım ekmek 3 tane bütün ekmek eder? (.....)
9. Yarısı 4 olan sayının tamamı kaç eder? (.....)
10. 6'nın yarısı kaçtır? (.....)
11. Yarısı 2 olan sayının tamamı kaçtır? (.....)
12. 10'un yarısı kaçtır? (.....)
13. 20'nin yarısı kaçtır? (.....)
14. 8'in yarısı kaçtır? (.....)
15. Yarısı 5 olan sayının tamamı kaçtır? (.....)