











ETKİNLİK&TEST
YARIM BÜTÜN

Yarımları birleştirerek kaç bütün oluştuğunu karşılarına yazalım.

1.  (.....)
2.  (.....)
3.  (.....)
4.  (.....)
5.  (.....)
6.  (.....)
7.  (.....)
8.  (.....)
9.  (.....)
10.  (.....)

KESİRLER TEST 1 (www.testimiz.com)

1. Bir bütünün iki eş parçaya bölersek parçaların her birine ne ad verilir?

- A) Bütün
- B) Yarım
- C) Çeyrek

2. Bir bütün kaç yarımdan oluşur?

- A) 1
- B) 2
- C) 3

3. Bir elmayı iki çocuk eşit olarak paylaşip yiyorlar. Bir çocuk ne kadar elma yemiştir?

- A) Yarım
- B) Bütün
- C) Çeyrek

4. İki yarım kaç tane bütün eder?

- A) 1
- B) 2
- C) 3

5. Dört tane yarım kaç tane bütün eder?

- A) 1
- B) 2
- C) 3

6. İki eş yarım bir eder.

Tümcesinde boş bırakılan yere aşağıdakilerden hangisi yazılmalıdır?

- A) Bütün
- B) Yarım
- C) Parça

7. Bir bütün iki eş eder.

Tümcesinde boş bırakılan yere aşağıdakilerden hangisi yazılmalıdır?

- A) Bütün
- B) Yarım
- C) Parça

8. Bir bütünün oluşturulan eşit iki parçadan her birine denir.

Tümcesinde boş bırakılan yere aşağıdakilerden hangisi yazılmalıdır?

- A) Bütün
- B) Yarım
- C) Çeyrek

9. Ceren 10 fındığın yarısını Deren'e verdi. Ceren, Deren'e kaç fındık vermiştir?

- A) 3
- B) 4
- C) 5

10. Yarısı 5 olan bilyelerin tamamı kaç tanedir?

- A) 5
- B) 10
- C) 20