


ETKİNLİK&TEST  
TOPLAMA ALIŞTIRMALARI



$3 + 1 = \dots$

$4 + 2 = \dots$

$6 + 5 = \dots$

$2 + 4 = \dots$

$9 + 1 = \dots$

$3 + 7 = \dots$

$9 + 2 = \dots$

$8 + 3 = \dots$

$6 + 5 = \dots$

$7 + 6 = \dots$

$5 + 4 = \dots$

$1 + 5 = \dots$

$11 + 3 = \dots$

$12 + 2 = \dots$

$13 + 5 = \dots$

$14 + 2 = \dots$

$17 + 1 = \dots$

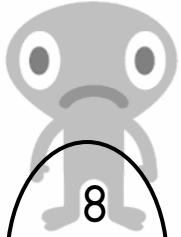
$16 + 3 = \dots$

$$\begin{array}{r} 6 \\ + 4 \\ \hline \end{array}$$

$$\begin{array}{r} 7 \\ + 2 \\ \hline \end{array}$$


$$\begin{array}{r} 8 \\ + 4 \\ \hline \end{array}$$

$$\begin{array}{r} 8 \\ + 6 \\ \hline \end{array}$$




$$\begin{array}{r} 8 \\ + 5 \\ \hline \end{array}$$


$$\begin{array}{r} 9 \\ + 4 \\ \hline \end{array}$$




$$\begin{array}{r} 8 \\ + 6 \\ \hline \end{array}$$



$$\begin{array}{r} 12 \\ + 4 \\ \hline \end{array}$$




$$\begin{array}{r} 13 \\ + 4 \\ \hline \end{array}$$



$$\begin{array}{r} 14 \\ + 3 \\ \hline \end{array}$$

$$\begin{array}{r} 15 \\ + 4 \\ \hline \end{array}$$




$$\begin{array}{r} 13 \\ + 3 \\ \hline \end{array}$$



$$\begin{array}{r} 14 \\ + 4 \\ \hline \end{array}$$



$$\begin{array}{r} 12 \\ + 2 \\ \hline \end{array}$$



$$\begin{array}{r} 15 \\ + 3 \\ \hline \end{array}$$



$$\begin{array}{r} 16 \\ + 3 \\ \hline \end{array}$$



ETKİNLİK&TEST  
TOPLAMA PROBLEMLERİ TEST 1 ( [www.testimiz.com](http://www.testimiz.com) )

- 1) Ayşe'nin 5 tane kalemı vardı.  
Annesi 4 kalem daha hediye etti.  
Ayşe'nin kaç kalemı oldu?  
A) 8  
B) 9  
C) 10
- 2) Ceren'in 9 TL'si vardı. 5 TL de  
babası verirse kaç TL'si olur?  
A) 14  
B) 15  
C) 16
- 3) Minel'in 7 tane oyuncak bebeği  
vardı. Doğum gününde 6 tane de  
arkadaşları getirdi. Minel'in kaç  
oyuncak bebeği oldu?  
A) 11  
B) 12  
C) 13
- 4) Anıl'in 8 tane kırmızı, 5 tanede  
siyah kalemı vardı. Anıl'in  
kalemlerinin toplamı kaç tanedir?  
A) 11  
B) 12  
C) 13
- 5) Ayça'nın 12 tane fıncığı vardı. 7  
tanede kardeşi verdi. Ayça'nın kaç  
fıncığı oldu?  
A) 18  
B) 19  
C) 20
- 6) Görkem'in 12 tane bilyesi vardı.  
Berat'in ise 5 bilyesi vardı. İkisinin  
bilyelerinin toplamı kaç tanedir?  
A) 17  
B) 18  
C) 19
- 7) Burak'ın 8 tane boya kalemı ile 7  
tane kurşun kalemı vardır. Burak'ın  
kaç tane kalemı vardır?  
A) 15  
B) 16  
C) 17
- 8) 10 kalemin 3 tanesi kullanıldı.....  
kalem kaldı.  
A) 12  
B) 13  
C) 14
- 9) 12 simidin, 6 tanesi satıldı.....  
simit kaldı.  
A) 17  
B) 18  
C) 19
- 10) 13 cevizin, 5 tanesini  
yedik..... ceviz kaldı.  
A) 18  
B) 19  
C) 20