

ETKİNLİK&TEST  
VERİLMEYEN TOPLANANI BULMA

Aşağıdaki toplamları bulmak için, hangi sayıları toplamalıyız. Noktalı kısımlara yazar mısınız?

$9 + \dots = 18$

$\dots + 5 = 12$

$3 + \dots = 8$

$3 + \dots = 9$

$\dots + 9 = 15$

$\dots + 3 = 7$

$4 + \dots = 11$

$\dots + 2 = 6$

$9 + \dots = 13$

$1 + \dots = 5$

$\dots + 4 = 10$

$\dots + 8 = 14$

$6 + \dots = 14$

$\dots + 3 = 3$

$7 + \dots = 16$

$9 + \dots = 17$

$\dots + 5 = 12$

$\dots + 9 = 19$

$1 + \dots = 1$


$\dots + 14 = 20$

$0 + \dots = 0$


$\begin{array}{r} 5 \\ + \dots \\ \hline 11 \end{array}$	$\begin{array}{r} 6 \\ + \dots \\ \hline 9 \end{array}$	$\begin{array}{r} \dots \\ + 4 \\ \hline 12 \end{array}$	$\begin{array}{r} 7 \\ + \dots \\ \hline 13 \end{array}$	$\begin{array}{r} \dots \\ + 5 \\ \hline 14 \end{array}$	$\begin{array}{r} 3 \\ + \dots \\ \hline 11 \end{array}$	$\begin{array}{r} \dots \\ + 6 \\ \hline 10 \end{array}$
$\begin{array}{r} \dots \\ + 9 \\ \hline 17 \end{array}$	$\begin{array}{r} 5 \\ + \dots \\ \hline 12 \end{array}$	$\begin{array}{r} \dots \\ + 7 \\ \hline 13 \end{array}$	$\begin{array}{r} \dots \\ + 6 \\ \hline 10 \end{array}$	$\begin{array}{r} 8 \\ + \dots \\ \hline 13 \end{array}$	$\begin{array}{r} \dots \\ + 6 \\ \hline 15 \end{array}$	$\begin{array}{r} 10 \\ + \dots \\ \hline 17 \end{array}$

ETKİNLİK&TEST  
TOPLAMA PROBLEMLERİ

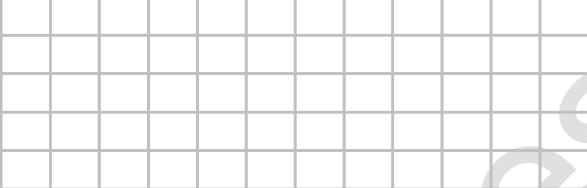
1. Bir vazoda 5 kırmızı, 4 beyaz gül var.  
Vazoda toplam kaç gül vardır?



2. Dolapta 6 bardak vardı. 6 tanede  
babam aldı. Dolapta kaç bardak oldu?



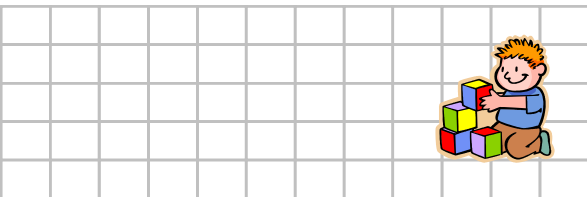
3. Ben 7 yaşındayım ağabeyim benden 5  
yaş büyük. Ağabeyimin yaşı kaçtır?




4. Ayşe, vazoya önce 8, sonra 4 karanfil  
koydu. Vazoda kaç karanfil oldu?




5. Sınıfımızda 13 erkek öğrenci var. Erkek  
öğrencilerden 4 fazla kız öğrenci  
vardır. Sınıfımızdaki kız öğrenci sayısı  
kaçtır?



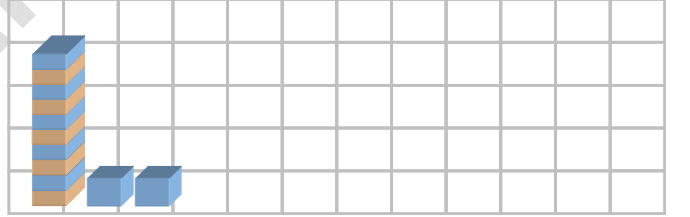
6. Sınıf kitaplığında 8 öykü, 3 masal, 4 şiir  
kitabı vardır. Kitaplığımızda toplam kaç  
kitap vardır?




7. Cemil'in 6 tane kalemı vardı. 5 tane  
ağabeyinden, 3 tane de ablasından  
aldı. Cemil'in kaç tane kalemı oldu?



8. 1onluk 2 birlikten oluşan sayının 7  
fazlası kaçtır?



9. 1 onluk 4 birlikten oluşan sayının 5  
fazlası kaçtır?



10. 1 onluk 1 birlikten oluşan sayının 6  
fazlası kaçtır?

