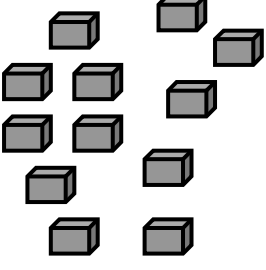


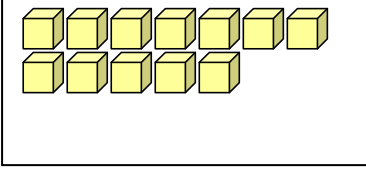
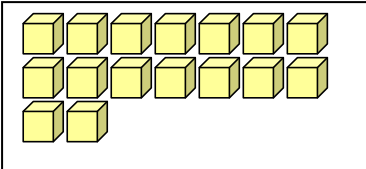
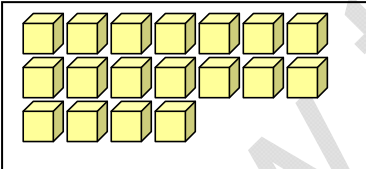
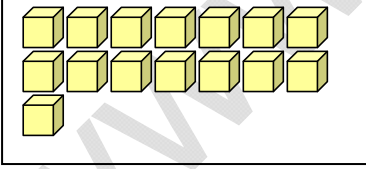
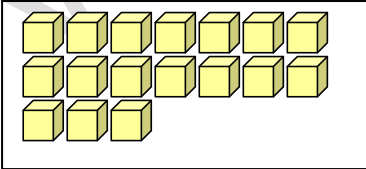
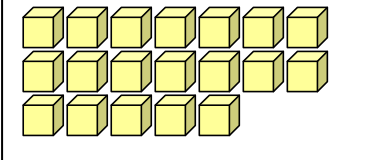


ETKİNLİK&TEST
ONLUK VE BİRLİKLER

12 	Onluklar	Birlikler
	1 	2 

Yukarıdaki şekli inceleyerek onluk ve birlikler hakkında bilgi edinmiş olmalısınız. 10 taneyi tamamlayan nesnelere bir onluk oluşturur.

Aşağıdaki şekillerdeki onluk ve birlik sayılarını karşlarına yazalım.

1.		Onluk 1	Birlik 2	12
2.		Onluk	Birlik	
3.		Onluk	Birlik	
4.		Onluk	Birlik	
5.		Onluk	Birlik	
6.		Onluk	Birlik	

ONLUK BİRLİK PROBLEMLERİ

1. 1 onluk + 3 birlik şeklinde çözümlenen sayının 5 fazlası kaçtır?

2. 1 onluk ve 5 birliğin 3 fazlası kaçtır?

3. 1 onluk ve 4 birliğin 5 fazlası kaçtır?

4. 6 birlik + 1 onluk şeklindeki sayının 3 fazlası kaçtır?

5. 3 birlik ile 1 onluğun 4 fazlası kaç eder?

6. 1onluk + 8 birlik şeklinde çözümlenen sayının 3 eksiği kaçtır?

7. 1 onluk ve 7 birlikten oluşan sayının 5 eksiği kaçtır?

8. 5 birlik ile 1 onluktan oluşan sayının 6 eksiği kaçtır?

9. 4 birlik ile 5 birliğin 1 onluk fazlası kaçtır?

10. 8 birlik ile 7 birliğin toplamının 1 onluk eksiği kaçtır?
