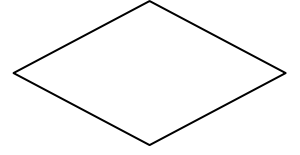
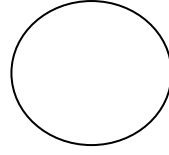
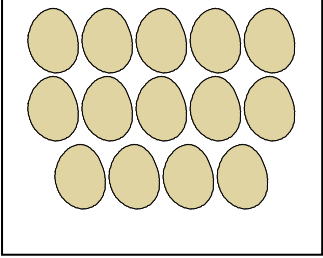


YARIM VE BÜTÜN


1. Aşağıdaki şekillerin yarısını çizerek boyayınız.



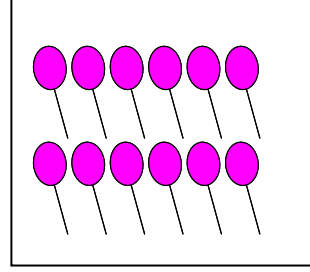
2. Aşağıda verilenlerin çoklukların yarısını bularak altına yazınız.



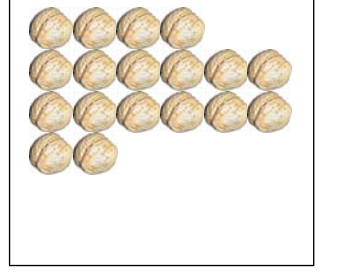
.....



.....



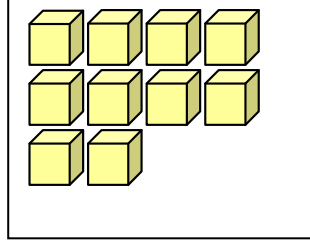
.....




.....




.....



.....



.....



.....

3. Aşağıdaki cümlelerde boş bırakılan yerleri tamamlayınız..

4 ekmeğin yarısı ...2 ... ekmek eder.

6 cevizin yarısı ceviz eder.

8 kalemin yarısı kalem eder.

10 fındığın yarısı fındık eder.

14 liranın yarısı liradır.

20 kuruşun yarısı kuruştur.

12 sayfanın yarısı sayfa eder.

18 kitabın yarısı eder.

14 kuşun yarısı kuş eder.

10 düğmenin yarısı eder.

4. Aşağıda yarım olarak verilenlerin bütünü yazınız.

4 yarım portakal ...2... bütün portakal eder.

6 yarım ekmek bütün ekmek eder.

10 yarım elma bütün elma eder.

8 yarım portakal bütün portakal eder.

14 yarım ekmek bütün ekmek eder.

12 yarım karpuz bütün karpuz eder.

18 yarım limon bütün limon eder.

KESİRLER TEST 2 (www.testimiz.com)

1. Yarısı 5 olan kalemlerimin tamamı kaç tanedir?

- A) 5
- B) 8
- C) 10

2. Bir vazodaki çiçeklerin yarısı 7 tanedir. Bu çiçeklerin tamamının 2 fazlası kaç çiçek eder?

- A) 14
- B) 16
- C) 18

3. Yarısı 8 tane olan karpuzların tamamının 3 eksiği kaç karpuz eder?

- A) 18
- B) 15
- C) 13

4. Kalem kutumdaki kalemlerin yarısı 6 tanedir. Kalemlerimden 1 tanesini arkadaşıma verdim. Kalemliğimde kaç kalemim kaldı?

- A) 10
- B) 11
- C) 12

5. Bir ağaçtaki kuşların yarısı uçtukten sonra 10 kuş kalmıştır. Ağaçta kaç tane kuş bulunmaktaydı?

- A) 10
- B) 15
- C) 20

6. Fatih'in cebindeki parasının yarısı 8 liradır. Parasının 5 lirasını harcadı. Fatih'in kaç lira parası kalmıştır?

- A) 9
- B) 10
- C) 11

7. Begüm'ün kalemlerinin yarısı 4'tür. Ablası da Begüm'e 2 kalem daha vermiştir. Begüm'ün kaç tane kalemi olmuştur?

- A) 10
- B) 9
- C) 8

8. 1 - C sınıfındaki öğrencilerin yarısı erkek, yarısı ise kızdır. Sınıf mevcudu 18 olduğuna göre kaç erkek öğrenci vardır?

- A) 9
- B) 8
- C) 7

9. Özkan'ın kitaplarının yarısı 6 tanedir. Kitaplarının 7 tanesini okuduğuna göre Özkan'ın okumadığı kaç kitabı kalmıştır?

- A) 5
- B) 6
- C) 7

10. Taner'in 20 tane fıındığı vardı. Yarısını kardeşine verdi. 3 tanesini de kendisi yedi. Taner'in kaç tane fıındığı kaldı?

- A) 6
- B) 7
- C) 8