

ETKİNLİK&TEST
ZİHİNDEN PROBLEM ÇÖZME



1. Bir sınıfta 18 erkek öğrenci ve erkeklerden 8 eksik kız öğrenci vardır. Bu sınıfta kaç tane kız öğrenci vardır?

Yanıt:.....



2. 17 tane cevizim vardı. 7 tanesini kardeşime verdim. Kaç tane cevizim kaldı?

Yanıt:.....



3. Bayramda sınıfımızı süslemek için 15 balon aldık. 4 tanesi patladı. Geriye kaç balon kaldı?

Yanıt:.....



4. Bakkaldan 17 tane yumurta aldım. Eve giderken yolda 4 tanesi kırıldı. Sağlam kaç yumurta kaldı?

Yanıt:.....



5. Bahçemize 13 tane kavak fidanı diktik. 4 tanesi kurudu. Geriye kaç fidan kaldı?

Yanıt:.....



6. Bir dalda 14 kuş vardı. 8 tanesi uçtu. Dalda kaç kuş kaldı?

Yanıt:.....

7. Kübra, 12 yaşındadır. Kardeşi Berna 5 yaş küçük olduğuna göre Berna, kaç yaşındadır?

Yanıt:.....





8. Bir dolmuşta 12 yolcu vardı. Durakta 5 yolcu indi 3 yolcu bindi. Dolmuşta kaç yolcu oldu?

Yanıt:.....

9. Memduh 8 yaşındadır. Kardeşi 5 yaş küçük olduğuna göre kardeşi kaç yaşındadır?

Yanıt:.....

10.  Görkem ile Yasin'in bilyelerinin toplamı 15'tir.  Görkem'in bilyeleri 8 tane olduğuna göre Yasin'in bilyeleri kaç tanedir?

Yanıt:.....




11. Sınıfımızda bulunan 18 tebeşirin 8 tanesini kullandık. Öğretmenimiz 5 tane daha getirdi. Sınıfımızda kaç tane tebeşir oldu?


Yanıt:.....

12.  Ahsen, 18 çileğin 6 tanesini Ceren'e, 4 tanesini de Sila'ya verdi. Ahsen'in kaç çileği kaldı? 


Yanıt:.....

13.  Deren, 12 sayfalık hikaye kitabının sabah 3 sayfasını akşam ise 5 sayfasını okudu. Geriye kaç sayfa kaldı?

Yanıt:.....

14.  Orçun'un 18 tane bilyesi vardı. Bilyelerinin 5 tanesini Deren'e, 3 tanesini de Özgür'e verdi. Deren'in kaç bilyesi kaldı?

Yanıt:.....

15.  Beril'in 15 tane tokası vardı. Beril tokalarının 8 tanesini Bengi'ye verdi. Beril'in kaç tokası kaldı?

Yanıt:.....