

ÇIKANI BUL PROBLEMLERİ

$$\begin{array}{r} 15 \\ - \square \\ \hline 6 \end{array}$$

$$\begin{array}{r} 15 \\ - \square \\ \hline 9 \end{array}$$

$$\begin{array}{r} 10 \\ - \square \\ \hline 3 \end{array}$$

$$\begin{array}{r} 12 \\ - \square \\ \hline 10 \end{array}$$

$$\begin{array}{r} 15 \\ - \square \\ \hline 6 \end{array}$$

$$\begin{array}{r} 9 \\ - \square \\ \hline 2 \end{array}$$


$$\begin{array}{r} 12 \\ - \square \\ \hline 7 \end{array}$$

1-Ali'nin 13 kuşu vardı. Kaç tanesi uçtu ki 8 kuşu kaldı?

$$\begin{array}{r} 13 \quad \text{eksilen} \\ - \square \quad \text{çıkan} \\ \hline 8 \quad \text{kalan} \end{array}$$




2- Annem marketten 17 yumurta aldı. Yumurtalardan bir kısmı kırıldı. Bize 9 yumurta kaldığına göre, kaç yumurta kırıldı?



3- 14 kalemim var. Bir kısmını Berna'ya verdim. Bana 7 kalem kaldı. Berna'ya kaç kalem verdim?

4-



Berat, 16 hikaye kitabının bir kısmını okudu. Geriye 7 hikaye kitabı kaldığına göre Berat kaç kitap okudu?

5- Yaren, 9 şekerin bir kısmını yedi. Geriye 6 şekeri kaldığına göre Yaren kaç şeker yemiştir?



6- Baran, 12 sayfalık hikaye kitabının bir kısmını okuyunca geriye 5 sayfası kaldı. Baran kaç sayfa okumuştur?

EKSİLENİ BUL PROBLEMLERİ

$$\begin{array}{r} \dots \\ - 3 \\ \hline 6 \end{array}$$

$$\begin{array}{r} \dots \\ - 3 \\ \hline 7 \end{array}$$

$$\begin{array}{r} \dots \\ - 5 \\ \hline 9 \end{array}$$

$$\begin{array}{r} \dots \\ - 13 \\ \hline 4 \end{array}$$

$$\begin{array}{r} \dots \\ - 4 \\ \hline 6 \end{array}$$

$$\begin{array}{r} \dots \\ - 2 \\ \hline 7 \end{array}$$


$$\begin{array}{r} \dots \\ - 10 \\ \hline 8 \end{array}$$

7-Sıla'nın 7 kuşu uçtu. 10 kuşu kaldı. Sıla'nın kaç kuşu vardı?

kuşu vardı
 - 7 kuşu uçtu

 10 kuşu kaldı

8- Feyza'nın 8 kalemı kayboldu.
 Geriye 9 kalemı kaldı. Feyza'nın kaç



kalemı vardı?

9-Bahar parasının 5 ytl sini harcadı.
 Geriye 7 ytl si kaldı. Bahar'ın kaç TL
 si vardı?




10-Deren, 11 kitap okudu. Geriye 7
 kitabı kaldı. Deren'in kaç kitabı

vardı?

11- Emir, 9 çilek yedi. Geriye 7 çilek
 kaldığına göre yemeden önce kaç
 çilek vardı?

12- Yasin, bir tabaktaki zeytinin 8
 tanesini yedi. Geriye 7 zeytin
 kaldığına göre Yasin yemeden önce
 tabakta kaç zeytin vardı?



13- Yasin, fındıklarının 9 tanesini
 Emir'e verince geriye 5 fındığı kaldı.
 Yasin'in Emir'e vermeden önce kaç
 fındığı vardı?
